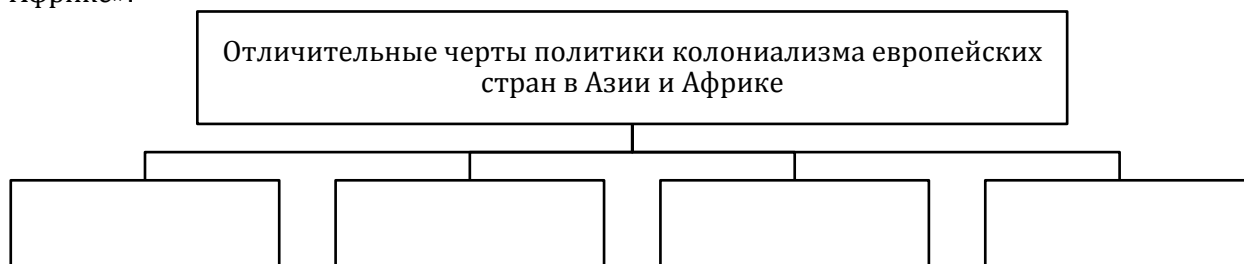


КОЛОНИАЛИЗМ В АЗИИ И АФРИКЕ

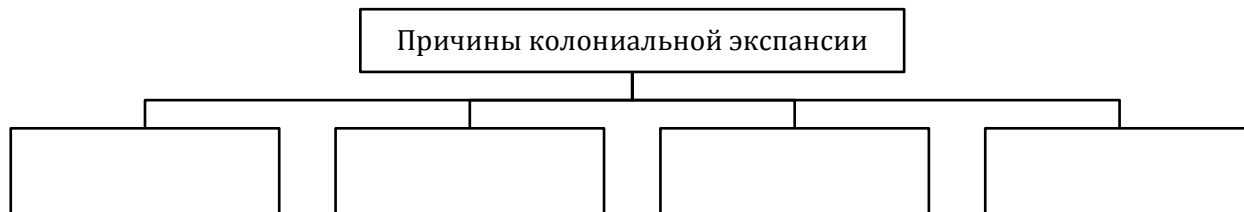
1. Дайте определение понятия:

а) колониализм – это ...

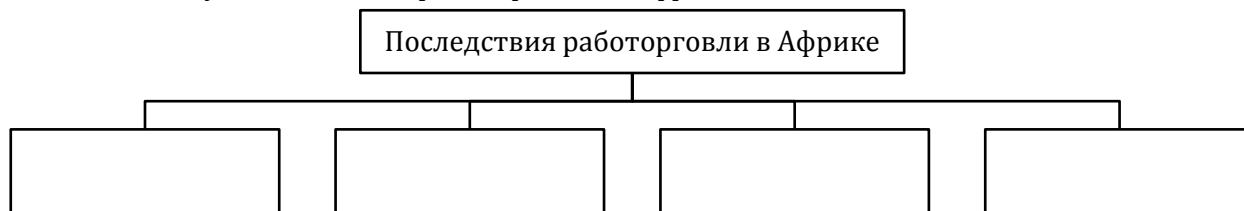
2. Составьте схему «Отличительные черты политики колониализма европейских стран в Азии и Африке»:



3. Составьте схему «Причины колониальной экспансии»:



4. Составьте схему «Последствия работорговли в Африке»:



5. Заполните таблицу «Последствия европейского колониализма в Азии и Африке»:

Положительные последствия	Отрицательные последствия

6. Укажите, кто изображён на иллюстрациях:

а) итальянский миссионер-иезуит при дворе династии Мин в Китае;

б) прославленный учёный и чиновник династии Мин, крестившийся в 1603 г. и сыгравший значительную роль в распространении католицизма в Китае:

